

KHỞI ĐỘNG



TÌM CHUÔNG CHO THỎ



10 - 4



PLAY



CHỦ ĐỀ
3

Phép cộng, phép trừ trong
phạm vi 10

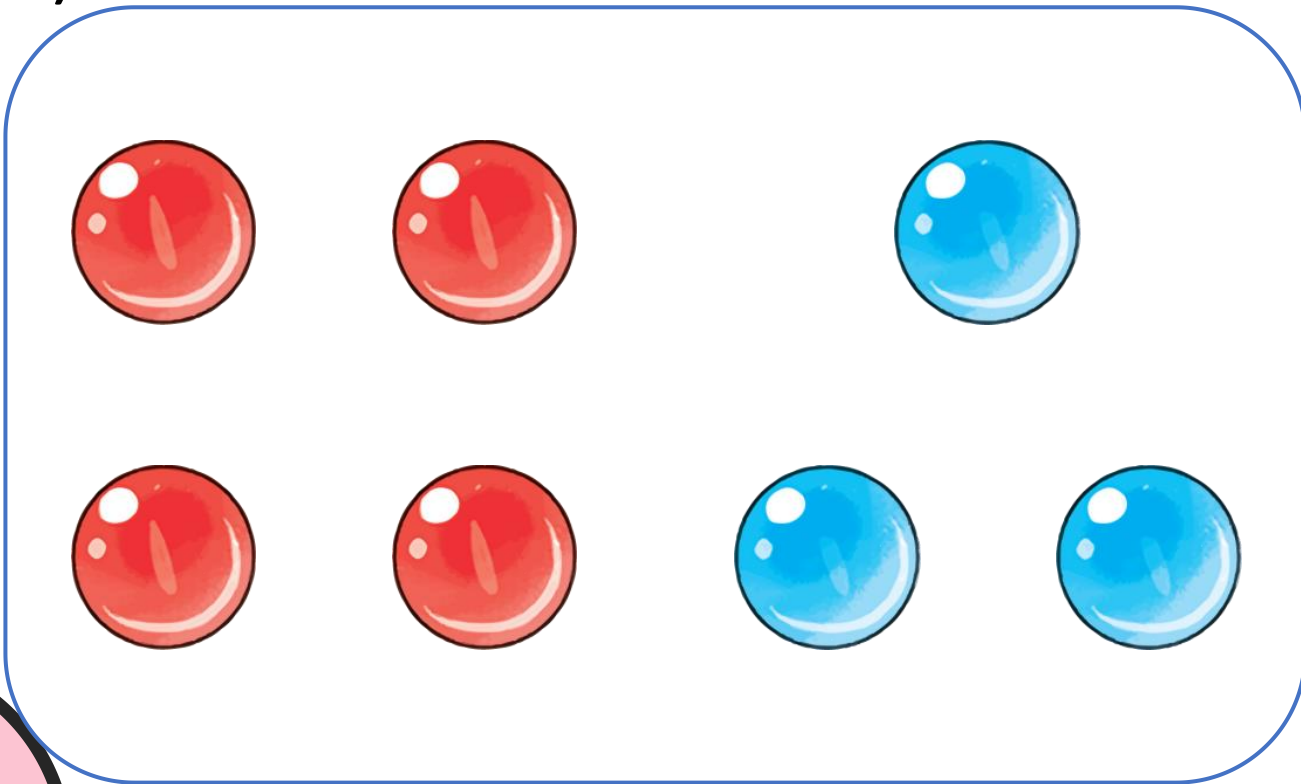
BÀI 12: Bảng cộng, trừ
trong phạm vi 10 (Tiết 3)





1. SỐ ?

a)




$$4 + 3 = 7$$

$$3 + 4 = 7$$

$$7 - 3 = 4$$

$$7 - 4 = 3$$





1. SỐ ?

b)



$$5 + 3 = 8$$

$$3 + 5 = 8$$

$$8 - 3 = 5$$

$$8 - 5 = 3$$

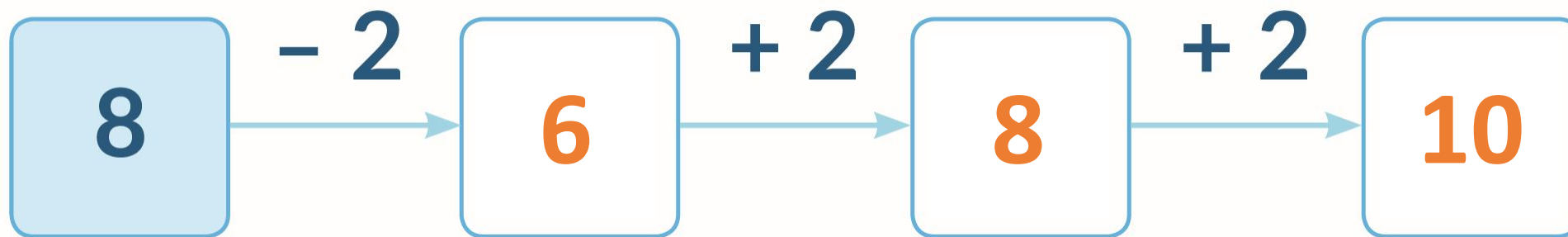


2. SỐ ?

a)




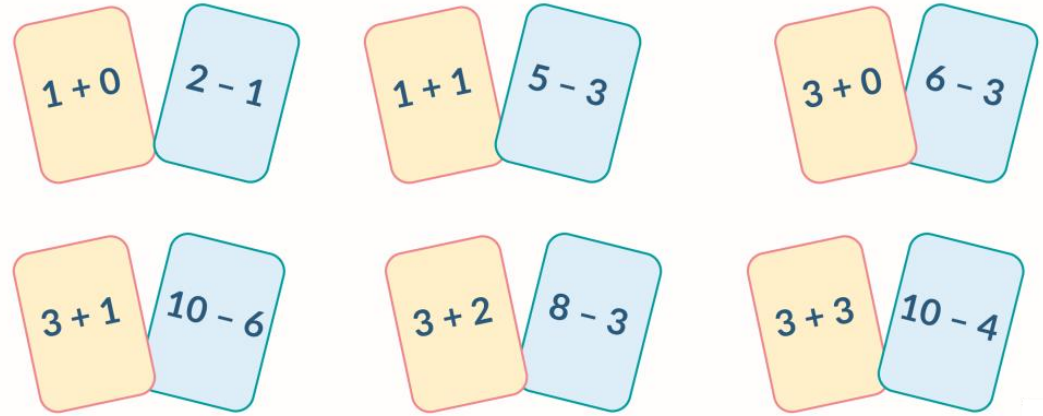
b)



Chọn tấm thẻ nào?

Cách chơi:

- Chơi theo nhóm.
- Đặt 12 tấm thẻ trên mặt bàn. Khi đến lượt, người chơi gieo xúc xắc, úp tấm thẻ ghi phép tính có kết quả bằng số chấm ở mặt trên xúc xắc.
- Trò chơi kết thúc khi úp được 6 tấm thẻ.



TRÒ CHƠI



BIỆT ĐỘI ANH HÙNG

HƯỚNG DẪN

Hãy giúp cảnh sát bắt những tên cướp bằng cách trả lời đúng những câu hỏi.



← Trờ về

1


2

3

4

5

6



CHIẾN THẮNG

1


2

3

4

5

6





CÂU HỎI 1
 $1 + 6 = ?$

7





CÂU HỎI 2
 $5 - 4 = ?$

1





CÂU HỎI 3
 $3 - 2 = ?$

1





CÂU HỎI 4
 $6 + 2 = ?$

8





CÂU HỎI 5
 $7 - 4 = ?$

3





CÂU HỎI 6
 $5 - 1 = ?$

4





CÂU HỎI 7
 $6 - 3 = ?$

3





CÂU HỎI 8
 $1 + 8 = ?$

9





CÂU HỎI 9
 $4 + 3 = ?$

7





CÂU HỎI 10
 $8 - 4 = ?$

4





CÂU HỎI 11
 $2 + 2 = ?$

4





CÂU HỎI 12
 $7 - 5 = ?$

2



TẠM BIỆT VÀ HẸN GẶP LẠI



A B C D E F G H I